

--	--

Numer Kodowy

Zestaw zadań na IV Konkurs Wiedzy Geograficznej

Etap II Podejście II

- Masz do rozwiązania 5 zadań dotyczących znajomości mapy Polski.
- Odpowiedzi wpisuj długopisem w wyznaczone miejsca
- Nie używaj korektora i ołówka
- Na rozwiązanie zadań masz 45 minut
- Za poprawne rozwiązanie testu możesz uzyskać 20 pkt.

Suma uzyskanych punktów

--

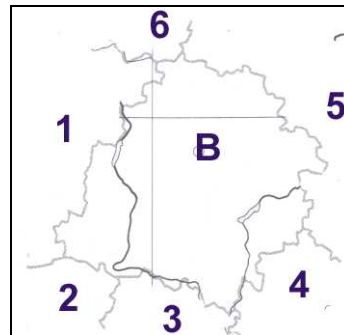
Zad. 1

(6pkt)

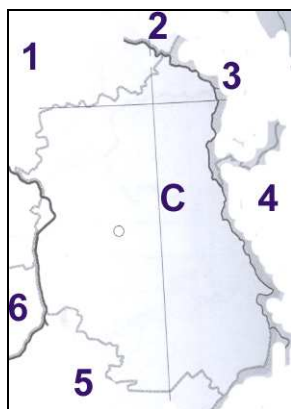
Niżej zamieszczono rysunki przedstawiające kontury województw. Rozpoznaj województwa. Obok każdego rysunku wpisz nazwę województwa oraz oznaczone cyframi województwa lub państwa sąsiadujące.



A
1.....
2.....
3.....
4.....



B
1.....
2.....
3.....
4.....
5.....
6.....



- C
- 1.....
- 2.....
- 3.....
- 4.....
- 5.....
- 6.....

Zad. 2

(3 pkt)

Podaj nazwę rzeki lub zbiornika wodnego, nad którymi leżą następujące miasta:

- a. Konin
- b. Łomża
- c. Przemyśl
- d. Tarnów
- e. Legnica
- f. Piła
- g. Stargard Gdański.....
- h. Ostrowiec Świętokrzyski
- i. Biała Podlaska
- j. Krosno
- k. Zawiercie.....
- l. Oświęcim.....

Zad. 3

(3pkt)

Uzupełnij tabelę wpisując w odpowiednie miejsca nazwy szczytów i pasm górskich lub nazwy krain geograficznych, których są one najwyższe.

Nazwy szczytów:

Tarnica, Radziejowa, Barania Góra, Babia Góra, Turbacz, Wielki Dział, Szeskie Wzgórza, Góra Świętej Anny, Grodzisko, Wysoka Kopa, Śnieżnik, Szczelnie Wielki, Trzy Korony

Nazwa szczytu	Wysokość m n.p.m.	Pasma górskie lub kraina geograficzna
	1310	
	919	
	1346	
	1262	
	513	
	1220	
	390	
	982	
	1126	

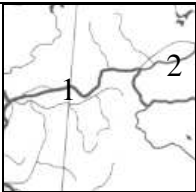
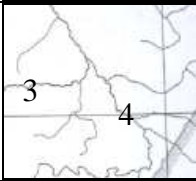

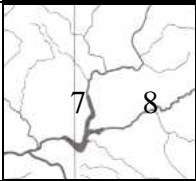
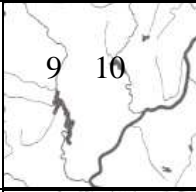
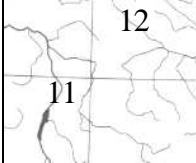
Zad. 4**(2 pkt)**

Podaj nazwy rzek, na których położone są sztuczne zbiorniki wodne:

- a. Jezioro Sulejowskie.....
- b. Jezioro Zegrzyńskie.....
- c. Jezioro Jeziorsko.....
- d. Jezioro Goczałkowickie.....
- e. Jezioro Koronowskie.....
- f. Jezioro Otmuchowskie.....

Zad. 5**(6pkt)**

Na załączonej mapie Polski brakuje niektórych fragmentów. Dopasuj części mapy spośród załączonych elementów, tak, aby tworzyły mapę sieci hydrograficznej Polski. Wpisz nazwy rzek oznaczonych na elementach map cyframi arabskimi. Rozwiązania zadania zapisz w tabeli.

Fragment mapy	Oznaczenie na mapie Polski	Nazwy rzek
	1 2
	3 4
	5 6
	7 8
	9 10
	11 12

Mapa Polski

